

Równanie Schrödingera*

Maciej J. Mrowiński

29 lutego 2012

★ **Zadanie RS1**

Funkcja falowa opisująca stan pewnej cząstki w chwili $t = 0$ ma następującą postać:

$$\Psi(x, 0) = \begin{cases} A(a^2 - x^2) & \text{gdy } x \in [-a, a] \\ 0 & \text{gdy } x \notin [-a, a] \end{cases}$$

gdzie $a \in \mathbb{R}_+$. Wyznacz stałą A . Jakie jest średnie położenie i pęd cząstki w chwili $t = 0$?

Odpowiedź: $A = \sqrt{\frac{15}{16a^3}}$, $\langle x \rangle = 0$, $\langle p \rangle = 0$

★ **Zadanie RS2**

Funkcja falowa opisująca stan pewnej cząstki ma następującą postać:

$$\Psi(x, t) = Ae^{-\lambda|x| - i\omega t}$$

gdzie $\lambda \in \mathbb{R}_+$, $\omega \in \mathbb{R}_+$. Wyznacz stałą A . Jakie jest średnie położenie i średni kwadrat położenia cząstki?

Odpowiedź: $A = \sqrt{\lambda}$, $\langle x \rangle = 0$, $\langle x^2 \rangle = \frac{1}{2\lambda^2}$

★ **Zadanie RS3**

W nieskończonej studni potencjału, zdefiniowanej na przedziale $x \in [-a, a]$, znajduje się cząstka w stanie opisywanym funkcją falową:

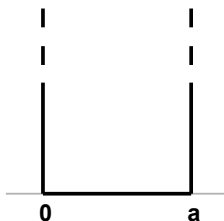
$$\psi(x) = A \sin^2 \frac{\pi x}{2a}$$

Wyznacz stałą A i średnią energię kinetyczną cząstki w tym stanie.

Odpowiedź: $A^2 = \frac{4}{3a}$, $\langle T \rangle = \frac{\pi^2 \hbar^2}{6ma^2}$

*Skompilowane z wielu źródeł. Tylko do użytku na zajęciach.

★ **Zadanie RS4**



Wyznacz unormowane stany stacjonarne i dozwolone wartości energii dla cząstki znajdującej się w nieskończonej studni potencjału o szerokości a (patrz rysunek) przy założeniu, że energia cząstki $E > 0$. Wykaż, że te stany stacjonarne spełniają zasadę nieoznaczoności.

Odpowiedź: $\Psi_n(x, t) = \sqrt{\frac{2}{a}} \sin\left(\frac{n\pi}{a}x\right) e^{-i\frac{n^2\pi^2\hbar}{2ma^2}t}$, $E_n = \frac{n^2\pi^2\hbar^2}{2ma^2}$

★ **Zadanie RS5**

Wyznacz unormowane stany stacjonarne i dozwolone wartości energii dla cząstki znajdującej się w trójwymiarowej, nieskończonej studni potencjału (czyli w pudełku):

$$V(\mathbf{r}) = \begin{cases} 0 & \text{dla } \mathbf{r} \in [0, a] \times [0, b] \times [0, c] \\ \infty & \text{w pozostałych przypadkach} \end{cases}$$

przy założeniu, że energia cząstki $E > 0$.

Odpowiedź: $\Psi_{n_x, n_y, n_z}(x, y, z, t) = \sqrt{\frac{8}{abc}} \sin\left(\frac{n_x\pi}{a}x\right) \sin\left(\frac{n_y\pi}{b}y\right) \sin\left(\frac{n_z\pi}{c}z\right) e^{-i\frac{E_{n_x, n_y, n_z}}{\hbar}t}$,
 $E_{n_x, n_y, n_z} = \frac{\hbar^2\pi^2}{2m} \left[\left(\frac{n_x}{a}\right)^2 + \left(\frac{n_y}{b}\right)^2 + \left(\frac{n_z}{c}\right)^2 \right]$

★ **Zadanie RS6**

Iloczyn skalarny dwóch funkcji falowych Ψ_1 i Ψ_2 może zostać zdefiniowany w następujący sposób:

$$(\Psi_1, \Psi_2) = \int \Psi_1^* \Psi_2 dx$$

przy czym granica tej całki zależy od kontekstu (na przykład dziedziny lub okresu funkcji Ψ_1 i Ψ_2). Wykaż, że tak zdefiniowany iloczyn skalarny jest odwzorowaniem addytywnym względem obu parametrów:

$$(\Psi_1, \Psi_2 + \Psi_3) = (\Psi_1, \Psi_2) + (\Psi_1, \Psi_3)$$

$$(\Psi_1 + \Psi_3, \Psi_2) = (\Psi_1, \Psi_2) + (\Psi_3, \Psi_2)$$

Wykaż również, że zachodzą następujące równości dla dowolnego $c \in \mathbb{C}$:

$$(\Psi_1, c\Psi_2) = c(\Psi_1, \Psi_2)$$

$$(c\Psi_1, \Psi_2) = c^*(\Psi_1, \Psi_2)$$

★ **Zadanie RS7**

Dyskretną bazą ortonormalną nazywamy zbiór funkcji $\{u_n(x)\}$ ($u_n: \mathbb{R} \rightarrow \mathbb{C}, n \in \mathbb{Z}$), pomiędzy którymi zachodzi, między innymi, następująca zależność (ortonormalność):

$$(u_n, u_m) = \delta_{n,m}$$

Wykaż, że rozwiązania niezależnego od czasu równania Schrödingera dla cząstki w nieskończonej studni potencjału (zadanie RS4) spełniają ten warunek.

★ **Zadanie RS8**

Założmy, że funkcje falowe $\Psi_1(x, t)$ i $\Psi_2(x, t)$ są rozwiązaniami równania Schrödingera. Udowodnij, że funkcja falowa $\Psi_3(x, t)$ będąca ich liniową kombinacją:

$$\Psi_3(x, t) = c_1 \Psi_1(x, t) + c_2 \Psi_2(x, t)$$

gdzie $c_1 \in \mathbb{C}$ i $c_2 \in \mathbb{C}$ to dowolne stałe, jest również rozwiązaniem równania Schrödingera. Ile będą wynosiły iloczyny skalarne (Ψ_1, Ψ_3) , (Ψ_2, Ψ_3) i (Ψ_3, Ψ_3) , jeżeli funkcje falowe Ψ_1 i Ψ_2 są ortonormalne (zadanie RS7)?

Odpowiedź: $(\Psi_1, \Psi_3) = c_1$, $(\Psi_2, \Psi_3) = c_2$, $(\Psi_3, \Psi_3) = |c_1|^2 + |c_2|^2$ (tu warto zauważyć, że jest to z definicji całka kwadratu modułu Ψ_3)

★★ **Zadanie RS9**

Najbardziej ogólne rozwiązanie równania Schrödingera, z uwagi na jego liniowość, dla cząstki w nieskończonej studni potencjału (zadanie RS4) może zostać przedstawione jako superpozycja wielu stanów stacjonarnych (zadanie RS8):

$$\Psi(x, t) = \sum_n c_n \Psi_n(x, t)$$

gdzie $\Psi_n(x, t)$ to n -ty stan stacjonarny, a $c_n \in \mathbb{C}$ to pewna stała (waga). Założmy, że dla pewnej cząstki w nieskończonej studni potencjału o szerokości a ($V = 0$ gdy $x \in [0, a]$, $V = \infty$ gdy $x \notin [0, a]$) kształt funkcji falowej w chwili $t = 0$ dany jest w następujący sposób:

$$\Psi(x, 0) = Ax(a - x)$$

Wyznacz dla tej cząstki stałą A i poszczególne wartości współczynników c_n . *Podpowiedź:* przy wyznaczaniu c_n należy skorzystać z ortogonalności stanów stacjonarnych (patrz zadania RS7, RS8) - problem ten jest analogiczny do wyznaczania współczynników wektora w pewnej ortonormalnej bazie (gdyż, w istocie, jest to dokładnie wyznaczanie współczynników wektora w pewnej ortonormalnej bazie - naszym wektorem jest funkcja falowa a bazą poszczególne stany stacjonarne).

Odpowiedź: $A = \sqrt{\frac{30}{a^3}}$, $c_n = \begin{cases} \frac{8\sqrt{15}}{(n\pi)^3} & \text{gdy } n \text{ jest nieparzyste} \\ 0 & \text{gdy } n \text{ jest parzyste} \end{cases}$

★ **Zadanie RS10**

Po jakim czasie cząstka w nieskończonej studni potencjału znajdzie się znowu w stanie początkowym:

$$\Psi(x, T) = \Psi(x, 0)$$

jeżeli w chwili początkowej znajdowała się w dowolnym stanie $\Psi(x, 0)$ (niekoniecznie stacjonarnym)?

Odpowiedź: $T = \frac{4ma^2}{\pi\hbar}$

★ **Zadanie RS11**

Wyznacz wzór na prąd prawdopodobieństwa $j(x, t)$:

$$j(x, t) = \frac{\hbar}{2mi} \left(\Psi^* \frac{\partial \Psi}{\partial x} - \frac{\partial \Psi^*}{\partial x} \Psi \right)$$

różniczkując gęstość prawdopodobieństwa $|\Psi|^2$ po czasie i używając równania Schrödingera do zamiany pochodnych na pochodne po położeniu.

★ **Zadanie RS12**

Wyznacz prąd prawdopodobieństwa (zadanie RS11) dla funkcji falowej:

$$\Psi(x, t) = Ae^{\pm ikx - i\omega t}$$

Odpowiedź: $j(x, t) = \pm \frac{\hbar k}{m} |A|^2$

★ **Zadanie RS13**

Wyznacz prąd prawdopodobieństwa (zadanie RS11) dla cząstki w nieskończonej studni potencjału o szerokości a (zadanie RS4), jeżeli cząstka znajduje się w n -tym stanie stacjonarnym:

$$\Psi_n(x, t) = \sqrt{\frac{2}{a}} \sin\left(\frac{n\pi}{a}x\right) e^{-\frac{iE_n t}{\hbar}}$$

gdzie

$$E_n = \frac{n^2 \pi^2 \hbar^2}{2ma^2}$$

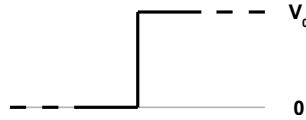
Jaki będzie prąd prawdopodobieństwa w przypadku cząstki znajdującej się w stanie będącym następującą liniową kombinacją n -tego i m -tego stanu stacjonarnego:

$$\Psi_{n,m}(x, t) = \frac{1}{\sqrt{2}} [\Psi_n(x, t) + \Psi_m(x, t)]$$

Odpowiedź: $j_n(x, t) = 0$,

$$j_{n,m}(x, t) = \frac{\hbar\pi}{2ma^2} \left[(n+m) \sin \frac{(n-m)\pi x}{a} - (n-m) \sin \frac{(n+m)\pi x}{a} \right] \sin \frac{(E_n - E_m)t}{\hbar}$$

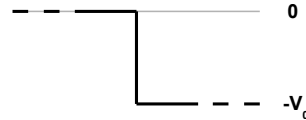
★ **Zadanie RS14**



Wyznacz, korzystając z prądu prawdopodobieństwa, współczynnik odbicia R i transmisji T dla „stopnia” potencjału o wysokości V_0 w przypadku kiedy energia $E > V_0$ i $E \in [0, V_0[$.

Odpowiedź: dla $E > V_0$: $R = \frac{(k_1 - k_2)^2}{(k_1 + k_2)^2}$, $T = \frac{4k_1 k_2}{(k_1 + k_2)^2}$, $k_1 = \frac{\sqrt{2mE}}{\hbar}$, $k_2 = \frac{\sqrt{2m(E - V_0)}}{\hbar}$; dla $E \in [0, V_0[$: $R = 1$, $T = 0$

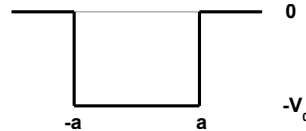
★ **Zadanie RS15**



Wyznacz współczynnik odbicia R i transmisji T dla odwróconego „stopnia” potencjału o głębokości V_0 w przypadku, kiedy energia $E > 0$.

Odpowiedź: $R = \frac{(k_1 - k_2)^2}{(k_1 + k_2)^2}$, $T = \frac{4k_1 k_2}{(k_1 + k_2)^2}$, $k_1 = \frac{\sqrt{2m(E + V_0)}}{\hbar}$, $k_2 = \frac{\sqrt{2mE}}{\hbar}$

★★ **Zadanie RS16**



Wyznacz parzyste i nieparzyste unormowane rozwiązania niezależnego od czasu równania Schrödingera dla cząstki o energii $E \in] -V_0, 0[$ znajdującej się w skończonej studni potencjału o głębokości V_0 i szerokości $2a$. Znajdź, w obu przypadkach, równania na dopuszczalne wartości energii (uwaga: równań tych nie daje się analitycznie rozwikłać). Dla energii $E > 0$ znajdź współczynnik transmisji. Dla jakich wartości energii fala całkowicie przejdzie przez barierę (studnię)?

Odpowiedź:

$$\text{Rozwiązania parzyste: } \psi(x) = \begin{cases} \frac{e^{k_1 a} \cos k_2 a}{\sqrt{a + \frac{1}{k_1}}} e^{k_1 x} & \text{gdy } x \in]-\infty, -a[\\ \frac{\cos k_2 x}{\sqrt{a + \frac{1}{k_1}}} & \text{gdy } x \in [-a, -a] \\ \frac{e^{k_1 a} \cos k_2 a}{\sqrt{a + \frac{1}{k_1}}} e^{-k_1 x} & \text{gdy } x \in]a, \infty[\end{cases}$$

Warunek dla energii stanów parzystych: $k_1 = k_2 \operatorname{tg} k_2 a$

$$\text{Rozwiązania nieparzyste: } \psi(x) = \begin{cases} -\frac{e^{k_1 a} \sin k_2 a}{\sqrt{a + \frac{1}{k_1}}} e^{k_1 x} & \text{gdy } x \in]-\infty, -a[\\ \frac{\sin k_2 x}{\sqrt{a + \frac{1}{k_1}}} & \text{gdy } x \in [-a, -a] \\ \frac{e^{k_1 a} \sin k_2 a}{\sqrt{a + \frac{1}{k_1}}} e^{-k_1 x} & \text{gdy } x \in]a, \infty[\end{cases}$$

Warunek dla energii stanów nieparzystych: $k_1 = -k_2 \operatorname{ctg} k_2 a$

$$T = \left[1 + \frac{V_0^2}{4E(E+V_0)} \sin^2 \left(\frac{2a}{\hbar} \sqrt{2m(E+V_0)} \right) \right]^{-1}$$

$$E_n + V_0 = \frac{n^2 \hbar^2 \pi^2}{8ma^2}$$

★★ **Zadanie RS17**

Wyznacz unormowane stany stacjonarne i równanie na dopuszczalne poziomy energii dla cząstki w poruszającej się w potencjale:

$$V(x) = \begin{cases} V_1 & \text{dla } x \in [0, a] \\ V_2 & \text{dla } x \in]a, b] \\ \infty & \text{w pozostałych przypadkach} \end{cases}$$

gdzie $V_2 > V_1 > 0$. Załóż, że energia cząstki $E > V_2$. Jakie będzie prawdopodobieństwo tego, że cząstka znajdzie się w obszarze $[0, a]$?

Odpowiedź:

$$\psi(x) = \begin{cases} A \sin k_1 x & \text{dla } x \in [0, a] \\ A \frac{\sin k_1 a}{\sin k_2 \beta} \sin k_2 (b-x) & \text{dla } x \in]a, b] \\ 0 & \text{w pozostałych przypadkach} \end{cases}$$

$$k_2 \operatorname{ctg} k_2 \beta + k_1 \operatorname{ctg} k_1 a = 0, A^{-2} = \frac{a}{2} \left[1 - \frac{\sin 2k_1 a}{2k_1 a} + \sin^2 k_1 a \frac{2k_2 \beta - \sin 2k_2 \beta}{2k_2 a \sin^2 k_2 \beta} \right],$$

$$p = A^2 \frac{a}{2} \left[1 - \frac{\sin 2k_1 a}{2k_1 a} \right], \beta = b - a$$

★★ **Zadanie RS18**

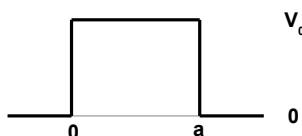
Wyznacz równanie na dopuszczalne poziomy energii dla cząstki w poruszającej się w potencjale:

$$V(x) = \begin{cases} V_1 & \text{dla } x \in]-\infty, 0[\\ V_2 & \text{dla } x \in]0, L[\\ V_3 & \text{dla } x \in [L, +\infty[\end{cases}$$

gdzie $V_1 > V_3 > V_2 > 0$. Załóż, że energia cząstki $V_2 < E < V_3$.

Odpowiedź: $\operatorname{tg} k_2 L = \frac{k_1 + k_3}{k_2 - \frac{k_1 k_3}{k_2}}$

★★ **Zadanie RS19**



Wyznacz współczynnik transmisji dla prostokątnej bariery potencjału o szerokości a i wysokości V_0 w przypadku, kiedy energia cząstki $E > V_0$, $E = V_0$ i $0 < E < V_0$.

Odpowiedź:

$$E > V_0: T = \left[1 + \left(\frac{k_1^2 - k_2^2}{2k_1 k_2} \right)^2 \sin^2 k_2 a \right]^{-1}, k_1 = \frac{\sqrt{2mE}}{\hbar}, k_2 = \frac{\sqrt{2m(E - V_0)}}{\hbar}$$

$$E = V_0: T = \left[1 + \left(\frac{ka}{2} \right)^2 \right]^{-1}, k = \frac{\sqrt{2mE}}{\hbar}$$

$$0 < E < V_0: T = \left[1 + \left(\frac{k_1^2 + k_2^2}{2k_1 k_2} \right)^2 \sinh^2 k_2 a \right]^{-1}, k_1 = \frac{\sqrt{2mE}}{\hbar}, k_2 = \frac{\sqrt{2m(V_0 - E)}}{\hbar}$$

★★ **Zadanie RS20**

Cząstka o masie m porusza się w potencjale:

$$V(x) = \begin{cases} \infty & \text{gdy } x \in]-\infty, 0[\\ -\frac{32\hbar^2}{ma^2} & \text{gdy } x \in [0, a] \\ 0 & \text{gdy } x \in]a, \infty[\end{cases}$$

W ilu stanach o energii $E \in [-\frac{32\hbar^2}{ma^2}, 0]$ może znaleźć się cząstka. Podpowiedź: końcówkę zadania należy rozwiązać graficznie.

Odpowiedź: Istnieją 3 stany stacjonarne o energii $E \in [-\frac{32\hbar^2}{ma^2}, 0]$.

★★ **Zadanie RS21**

Założmy, że rozwiązanie niezależnego od czasu równania Schrödingera ma następującą postać

$$\psi(x) = \begin{cases} \psi_l(x) & \text{gdy } x \in]-\infty, x_0[\\ \psi_r(x) & \text{gdy } x \in [x_0, +\infty[\end{cases}$$

Udowodnij, że dla dowolnego potencjału będącego funkcją $V : \mathbb{R} \rightarrow \mathbb{R}$ ($|V(x)| < \infty$), pierwsza pochodna $\psi(x)$ musi być ciągła. Wykaż również, że możemy dokładnie określić jak zachowuje się nieciągłość pochodnej $\psi(x)$ w przypadku deltoidalnego potencjału $V(x) = -c\delta(x - x_0)$. *Podpowiedź:* w obu przypadkach należy obustronnie scałkować niezależne od czasu równanie Schrödingera w najbliższym otoczeniu punktu x_0 .

Odpowiedź:

$$\left. \frac{d\psi_r}{dx} \right|_{x=x_0} - \left. \frac{d\psi_l}{dx} \right|_{x=x_0} = \begin{cases} 0 & \text{gdy } V(x) \text{ zachowuje się „przyzwoicie”} \\ -\frac{2mc}{\hbar^2} \psi(x_0) & \text{nieciągłość dla potencjału deltoidalnego} \end{cases}$$

★★ **Zadanie RS22**

Wyznacz stany stacjonarne i dopuszczalne wartości energii dla cząstki w potencjale deltoidalnym $V(x) = -\alpha\delta(x)$, której energia $E < 0$. Dla energii $E > 0$ wyznacz współczynnik transmisji i odbicia. Pamiętaj, że w punkcie $x = 0$ pierwsza pochodna funkcji falowej nie będzie ciągła z uwagi na deltoidalny potencjał (zadanie RS21).

Odpowiedź: $\Psi(x, y) = \frac{\sqrt{m\alpha}}{\hbar} e^{-\frac{m\alpha}{\hbar^2}|x| - \frac{iE}{\hbar}t}$, $E = -\frac{m\alpha^2}{2\hbar^2}$ (istnieje tylko jeden stan stacjonarny!)

$$R = \left[1 + \frac{2\hbar^2 E}{m\alpha^2} \right]^{-1}, T = \left[1 + \frac{m\alpha^2}{2\hbar^2 E} \right]^{-1}$$

★★ **Zadanie RS23**

Wyznacz równanie na dopuszczalne poziomy energii dla cząstki poruszającej się w potencjale niesymetrycznej studni z barierą deltoidalną:

$$V(x) = \begin{cases} V_1 & \text{dla } x \in [0, a[\\ c\delta(x) & \text{dla } x = a \\ V_2 & \text{dla } x \in]a, b] \\ \infty & \text{w pozostałych przypadkach} \end{cases}$$

gdzie $V_2 > V_1 > 0$. Załóż, że energia cząstki $E > V_2$.

Odpowiedź: $k_2 \operatorname{ctg} k_2 \beta + k_1 \operatorname{ctg} k_1 a = -\frac{2mc}{\hbar^2}$, $\beta = b - a$

★★ **Zadanie RS24**

Wyznacz równanie na dopuszczalne poziomy energetyczne dla cząstki znajdującej się w potencjale $V(x) = -\alpha [\delta(x) + \delta(x-l)]$ ($\alpha, l \in \mathbb{R}_+$), jeżeli jej energia $E < 0$.

Odpowiedź: $e^{-2kl} = \left(1 - \frac{2k}{\beta}\right)^2$, $k = \frac{\sqrt{-2mE}}{\hbar}$, $\beta = \frac{2m\alpha}{\hbar^2}$

★★ **Zadanie RS25**

Wyznacz równanie na dopuszczalne poziomy energetyczne dla cząstki znajdującej się w potencjale $V(x) = -\alpha [\delta(x-a) + \delta(x+a)]$ ($\alpha, a \in \mathbb{R}_+$), jeżeli jej energia $E < 0$. Dla $E > 0$ wyznacz współczynnik transmisji.

Odpowiedź: Dla rozwiązań parzystych: $e^{-2ka} = \frac{k\hbar^2}{m\alpha} - 1$, dla rozwiązań nieparzystych: $e^{-2ka} = 1 - \frac{k\hbar^2}{m\alpha}$, gdzie $k = \frac{\sqrt{-2mE}}{\hbar}$; $T = \frac{8\delta^2}{8\delta^4 + 4\delta^2 + 1 + (4\delta^2 - 1)\cos(4ka) + 4\delta \sin(4ka)}$,
 $\delta = -\frac{\hbar^2 k}{2m\alpha}$

★ **Zadanie RS26**

Wyznacz unormowane stany stacjonarne i dopuszczalne poziomy energii dla cząstki swobodnej poruszającej się po okręgu, którego obwód wynosi L . *Podpowiedź:* Rozwiązania elementarne będą dwa - jedno dla ruchu zgodnie i jedno dla ruchu przeciwnie do wskazówek zegara.

Odpowiedź: $\psi_n^\pm(x) = \frac{1}{\sqrt{L}} e^{\pm \frac{2\pi n x}{L}}$, $E = \frac{2n^2 \pi^2 \hbar^2}{mL^2}$

★ **Zadanie RS27**

Wyznacz ogólne rozwiązanie równania Schrödingera dla cząstki swobodnej.

Odpowiedź: $\Psi(x, t) = \frac{1}{\sqrt{2\pi}} \int_{-\infty}^{+\infty} \phi(k) e^{i\left(kx - \frac{\hbar k^2}{2m} t\right)} dk$

★ **Zadanie RS28**

Wyznacz $\Psi(x, t)$ dla cząstki swobodnej, jeżeli w chwili początkowej jej funkcja falowa miała postać:

$$\Psi(x, 0) = \begin{cases} A & \text{gdy } x \in]-a, a[\\ 0 & \text{gdy } x \notin]-a, a[\end{cases}$$

Dobierz stałą A tak, aby funkcja falowa była unormowana.

Odpowiedź: $\Psi(x, t) = \frac{1}{\sqrt{2a\pi}} \int_{-\infty}^{+\infty} \frac{\sin ka}{k} e^{i\left(kx - \frac{\hbar k^2}{2m} t\right)} dk$

★ **Zadanie RS29**

Wyznacz $\Psi(x, t)$ dla cząstki swobodnej, jeżeli w chwili początkowej jej funkcja falowa miała postać:

$$\Psi(x, 0) = Ae^{-a|x|}$$

gdzie a i A to dodatnie, rzeczywiste stałe (A nie jest znana).

Odpowiedź:
$$\Psi(x, t) = \frac{a^{3/2}}{\pi} \int_{-\infty}^{+\infty} \frac{1}{k^2 + a^2} e^{i(kx - \frac{\hbar k^2}{2m}t)} dk$$

★★ **Zadanie RS30**

Wyznacz $\Psi(x, t)$ dla cząstki swobodnej, jeżeli w chwili początkowej jej funkcja falowa miała postać (paczka Gaussowska):

$$\Psi(x, 0) = Ae^{-ax^2}$$

gdzie a i A to dodatnie, rzeczywiste stałe (A nie jest znana). Wyznacz również $|\Psi|^2$ i wariancję położenia oraz pędu cząstki. Sprawdź, czy zasada nieoznaczoności jest spełniona.

Odpowiedź:
$$\Psi(x, t) = \left(\frac{2a}{\pi}\right)^{1/4} \frac{1}{\sqrt{1 + \frac{\hbar^2 a t}{m}}} e^{\frac{-ax^2}{1 + \frac{\hbar^2 a t}{m}}}, \sigma_x^2 = \frac{1 + \theta^2}{4a}, \sigma_p^2 = a \hbar^2,$$

$$\sigma_x \sigma_p = \frac{\hbar}{2} \sqrt{1 + \theta^2}, \theta = \frac{2\hbar a t}{m}$$